

Daar ligt Zwitserland: met bus of trein naar de Bergen SSM p. 12-13

1. Door welke landen rijd je?

LAND	Hoofdstad
-	-
-	-
-	-
-	-

2. Je kan de buurlanden van België noemen

-
-
-
-




3. Je kan de buurlanden van Zwitserland noemen


-
-
-
-
-




4. Je kan deze vlaggen kleuren




NDL




Duitsland



G.H.-Lux.



Italië



Oostenrijk



Frankrijk

5. Je kan volgende steden aanduiden op de kaart

- a. Antwerpen
- b. Brussel
- c. Leuven
- d. Namen
- e. Aarlen
- f. Luxembourg
- g. Strasbourg
- h. Colmar
- i. Basel (' = van Zwitserland)
- j. Bern
- k.